



evropský
sociální
fond v ČR



EVROPSKÁ UNIE



MINISTERSTVO ŠKOLSTVÍ,
MLÁDEŽE A TĚLOVÝCHOVY



OP Vzdělávání
pro konkurenceschopnost

INVESTICE DO ROZVOJE VZDĚLÁVÁNÍ

DIDAKTICKÝ UČEBNÍ MATERIÁL

Název školy	Základní škola a Mateřská škola Martinice v Krkonoších
Číslo projektu	CZ.1.07/1.4.00/21.3437
Název šablony klíčové aktivity	Inovace a zkvalitnění výuky prostřednictvím ICT

Číslo materiálu (počet stran) VY_3.2_INOVACE_03_34 (1 list)
Název materiálu Násobení a dělení dvěma a třemi
Doporučený ročník (předmět) 3. ročník (matematika)
Autor Hana Valášková
Cíle Procvičování a opakování učiva
Doporučení pro práci s materiálem Žáci kroužkují písmena pod násobky čísel 2 a 3 a zapisují pravidlo, násobí a dělí dvěma a třemi, řeší další úkoly podle zadání.
Použitá literatura a zdroje Microsoft Word 2010

Řídíme se těmito pravidly:

Zakroužkuj písmena pod násobky čísla 2

4	15	12	2	7	8	14	6	9	18	11	10	16
N	A	E	U	K	B	L	I	S	Ž	O	U	J





Pravidlo zní:







Zakroužkuj písmena pod násobky čísla 3

12	27	16	15	28	24	3	18	20	30	6	25	21	9
M	L	A	U	E	V	P	R	O	A	V	I	D	U

Pravidlo zní:

Vypočítej příklady a vybarvi ty, které odpovídají počtu obrázků:

$8 : 2 =$		
$16 : 2 =$		
$12 : 3 =$		
$2 \cdot 2 =$		

$18 : 3 =$		
$18 : 2 =$		
$2 \cdot 3 =$		
$12 : 2 =$		

Myslím si číslo. Když ho vynásobím dvěma, vyjde mi číslo 14. Které číslo si myslím?

.....

Myslím si číslo. Když ho vynásobím třemi, vyjde mi číslo 24. Které číslo si myslím?

.....